



# BİTLİS İL MİLLİ EĞİTİM MÜDÜRLÜĞÜ

## KAZANIM PEKİŞTİRME ÇALIŞMASI



**2.SINIF**

**1.SAYI**

**#evdekal  
#bitlis**

**BU KİTAPÇIKTA;**

TÜRKÇE 10 SORU

MATEMATİK 10 SORU

HAYAT BİLGİSİ 10 SORU

İNGİLİZCE 10 SORU yer almaktadır.

Not: Cevap anahtarı <https://bitlis.meb.gov.tr/> duyurular sekmesinde açıklanacaktır.

Bu çalışmada Türkçe, Matematik ve Hayat Bilgisi dersi sorularını hazırlayan Muştakbaba İlkokulu öğretmenlerinden Murat KARABABA'ya; İngilizce dersi sorularını hazırlayan Dilara MATARACI'ya teşekkürler...

**BİTLİS MEM**

**Mayıs 2020**

## TÜRKÇE TESTİ

Senden ayrı duramam,  
Benim biricik annem.  
Her sabah uyanınca,  
Seni ararım hemen.

Bugün Anneler Günü.  
En çok sevenin benim.  
Seni candan kucaklar  
Ellerinden öperim.

1.2. ve 3. Soruları yukarıdaki şiire göre cevaplayın.

1.Aşağıdakilerden hangisi şiire uygun bir başlık değildir?

- A) Anneler Günü
- B) Öğretmenim
- C) Annem

2. Şiirde toplam kaç dize vardır?

- A) 2
- B) 6
- C) 8

3.Şiirin ilk cümlesi kaç heceden oluşmuştur?

- A) 3
- B) 5
- C) 7

4.İhtiyar – yaşlı kelimeleri arasındaki anlam ilişkisi aşağıdaki kelime çiftlerinden hangisinde vardır?

- A) uzun-kısa
- B) vazife-görev
- C) fayda-zarar

1.süt 2.kediye 3.verdim 4.sokaktaki

5.Yukarıdaki kelimelerle anlamlı ve kurallı bir cümle oluşması için sıralama nasıl olmalıdır?

- A) 2-1-3-4
- B) 1-2-4-3
- C) 4-2-1-3

6.Okul – mektep sözcükleri arasında olan anlam ilişkisi aşağıdaki hangi sözcük çiftlerinde yoktur?

- A) beyaz-siyah
- B) hatıra-anı
- C) konut-ev

Yunus kütüphaneye gitti( )

Nereye gidiyorsun( )

Eyvah, kayboldum( )

**7.Yukarıdaki cümlelerde ( ) içlerine sırasıyla hangi noktalama işaretleri gelmelidir?**

A) (?) (.) (!)

B) (!) (?) (.)

C) (.) (?) (!)

**8.Aşağıdaki cümlelerin hangisinde yazım yanlışı yapılmıştır?**

A) Yağmur yağmaya başladı.

B) Enes okula geldimi?

C) Hümeyra ödevini yaptı.

**9. Aşağıdaki cümlelerin hangisinde noktalama işaretleri ile ilgili yanlıslık yapılmıştır?**

A) Melek dışarı çıktı.

B) Furkan niye gelmedi?

C) Bunu neden yaptın!

**10.Aşağıdaki cümleleri olayların oluş sırasına koyarsak doğru sıralama nasıl olur?**

1. Birlikte oyun oynadılar.

2. Barış ile Bilal parka gittiler.

3. Sonra herkes evine gitti.

4. Parkta Hira nur ile karşılaştılar.

A) 2-4-1-3

B) 4-1-3-2

C) 3-2-4-1

MAĞAZAMIZDAKİ ÜRÜNLER



Gömlek 30 TL



Ayakkabı 25 TL

1. 2. ve 3. soruları yukarıdaki bilgilere göre cevaplayınız.

1. Deniz mağazadan 1 gömlek ve 2 ayakkabı almıştır. Deniz mağazaya kaç TL ödemelidir?

- A) 75 TL
- B) 80 TL
- C) 85 TL

2. Berat mağazadan 2 gömlek aldı ve kasiyere 100 TL verdi. Berat kaç TL para üstü almalıdır?

- A) 40 TL
- B) 45 TL
- C) 50 TL

3. Araz mağazadan 3 gömlek, Havin ise 2 ayakkabı almıştır. Araz Havin'den kaç lira fazla ödeme yapmıştır?

- A) 35 TL
- B) 40 TL
- C) 45 TL

- 1) 3 tam 6 yarım eder.
- 2) 8 çeyrek 4 tam eder.
- 3) 12 çeyrek 3 tam eder.

4. Yukarıdaki ifadelerden hangileri doğrudur?

- A) 1 ve 2
- B) 2 ve 3
- C) 1 ve 3

## 2.SINIF KAZANIM PEKİŞTİRME TESTİ

5.70 sayısının yarısının 17 fazlası kaçtır?

- A)52
- B)51
- C)50

6. 4 hafta 5 gün toplam kaç gün eder?

- A)30
- B)33
- C)35

7.Yağmur 45 lirasını 5 kardeşine eşit olarak paylaştığında her bir kardeşte kaç lira olur?

- A)7
- B)8
- C)9

8.Saat 14.00'te başlayan film 16.30'da bittiğine göre film kaç saat sürmüştür?

- A)2.30
- B)2.20
- C)2.00

9.Saat 11.30'da çalışmaya başlayan Esmâ 3 saat sonra mola vermiştir. Esmâ mola verdiğiinde saat kaçtır?

- A)13.30
- B)14.00
- C)14.30

10.Cemre 90 lirasının 18 lirası ile oyuncak bebek,23 lirası ile top aldığına göre kaç lirası kalmıştır?

- A)49
- B)67
- C)72

1.Aşağıdakilerden hangisi canlı değildir?

- A) Papatya
- B) Televizyon
- C) Kuş

2.Aşağıdaki ifadelerden hangisi yanlıştır?

- A) Bitkiler, topraktan gerekli besinleri alırlar.
- B) Hayvanlar ve bitkiler canlı varlıklardır.
- C) Bitkiler suda yetişirler.

3.Aşağıdaki hayvan ve yuvaları eşleştirmelerinden hangisi yanlış yapılmıştır?

- A) Arı - kovan
- B) Tavuk – kümes
- C) At - ağıl

4. Aşağıdaki hayvanlardan hangisi yaşadığımız çevrede görebileceğimiz hayvanlardan değildir?

- A) Penguen
- B) Yılan
- C) İnek

5.Aşağıdaki davranışlardan hangisi yanlış bir davranıştır?

- A) Ağaçları sulamak.
- B) Hayvanlara yiyecek vermek.
- C) Bahçemizdeki çiçekleri koparmak.

6.Aşağıdaki hayvanlardan hangisi hem ot hem de et ile beslenir?

- A) Ayı
- B) Koyun
- C) Kaplan

7.'Bitkiler, büyüebilmek için hava, toprak, su ve ..... İhtiyaç duyarlar.' cümlesinde noktalı yere aşağıdakilerden hangisi gelmelidir?

- A) Taş
- B) Güneş ışığı
- C) Saksı

8.Aşağıdakilerden hangisi hayvan ve bitkilerin ortak özelliği değildir?

- A) Canlıdırlar.
- B) Hareket ettiklerinde yer değiştirirler.
- C) Yaşamlarını sürdürebilmek için suya ihtiyaçları vardır.

- 1.ışık
- 2.rüzgar
- 3.hava

9.Yukarıdakilerden hangileri bitkilerin büyüebilmeleri için gereklidir?

- A)1 ve 3
- B)1 ve 2
- C)2 ve 3

- ( ) Bitkiler toprağa kökleri ile tutunurlar.
- ( ) Kedi,balık ve çiçek canlı varlıklardır.
- ( ) Koyun ve keçinin yuvasına ağır denir.

10.Yukarıdaki ifadelerden doğru olanların başına "D", yanlış olanların başına "Y" yazdığımızda doğru sıralama hangisi olur?


- A) Y,D,Y
- B) D,Y,D
- C) D,D,Y





1. Yukarıdaki meyve sepetinde aşağıdaki meyvelerden hangisi yoktur ?

- A) Strawberry
- B) Banana
- C) Grapes



2. Yukarıdaki meyveler ile eşleştirdiğimizde hangi renk dışarıda kalır?

- A) Yellow
- B) Red
- C) Orange



3. How many oranges are there?

- A) five
- B) four
- C) three


4. Aşağıdakilerden hangisi meyve ismi değildir?

- A) orange
- B) bird
- C) grapes



5. What is this?

- A) grapefruit
- B) cherries
- C) pineapple




6.Do you like watermelon?

- A) No, I don't.
- B) Yes, she does.
- C) Yes, I do.

7.What color is it?

- A)red
- B)yellow
- C)blue



8.Do you like cherries?

- A) Yes, I do.
- B) No, I don't.
- C) Yes, I don't.



9.I like .....

- A) Orange
- B) Pineapple
- C) Watermelon



10.How many green apples are there?

- A) Four
- B) Ten
- C) Seven